

SOAL ULANGAN SEMESTER GANJIL TH 2006/2007

SMA NEGERI 11 YOGYAKARTA

Jln. AM. Sangaji 50. Telp:565898

MATA PELAJARAN : TEKNOLOGI INFORMASI DAN KOMUNIKASI

KELAS : XII IPA&IPS

HARI / TGL : RABU, 13 DESEMBER 2006

WAKTU : 07.30-09.00 WIB

I. PILIHLAH JAWABAN YANG PALING BENAR DENGAN MEMBERI TANDA SILANG (X) PADA A,B,C,D ATAU E

1. Hak untuk memasuki dan memanfaatkan sebuah jaringan computer yang diwakili nama user name dan password adalah....
 - a. URL
 - b. IP Address
 - c. Account
 - d. Backup
 - e. Login
2. Jika kita ingin mengirimkan gambar/file melalui email, maka sebelumnya kita harus mengambilnya melalui...
 - a. Send
 - b. Attach files
 - c. Stationer
 - d. sign out
 - e. Subject
3. Dalam pembuatan home page, file disimpan dalam bentuk ekstensi...
 - a. HTTP
 - b. HTML
 - c. Text
 - d. Doc
 - e. Text Doc
4. Suatu program yang dirancang untuk mengambil informasi-informasi dari suatu server komputer pada jaringan internet disebut...
 - a. Server
 - b. Internet
 - c. Homepage
 - d. Browser
 - e. Chatting
5. Tag yang digunakan untuk ganti baris adalah...
 - a. <r>
 - b. <p>
 - c.

 - d.
 - e. <tr>
6. Pada Internet Explorer yang merupakan indikator proses adalah gambar...
 - a. Tanda silang
 - b. Printer
 - c. Rumah
 - d. Disket
 - e. Dunia

7. Jalan masuk yang menghubungkan satu halaman ke halaman lain disebut..
- Body
 - img
 - Link
 - href
 - page
8. Bagian yang digunakan untuk merancang yang akan ditampilkan dalam website adalah?
- notepad
 - head
 - title
 - Body
 - front page
9. `` adalah perintah untuk..
- Menampilkan background
 - Menampilkan gambar
 - Membuat gambar
 - Mengatur warna
 - Membuat link
10. Pada umumnya suatu kesatuan peralatan personal komputer hardwarenya terdiri minimal oleh 4 komponen berikut ini, kecuali...
- Input device
 - Output device
 - Storage device
 - Central Processing Unit
 - Internet Service Provider
11. Apa artinya *Compose* saat membuka Email
- Mengapus surat
 - Menulis surat
 - Mengedit surat
 - Melihat surat
 - Mereplay surat
12. Saat anda akan membuka Email setelah memasukan *user ID* apa yang kemudian anda lakukan untuk membukanya...
- Mengklick Inbox
 - Menuliskan Password
 - Send Email
 - Mengklick Compose
 - Open outbox
13. Perhatikan perintah berikut `<marquee>` belajar website `</marquee>` Apa yang dihasilkan dari perintah diatas...
- Tulisan berjalan
 - Tulisan bergerak
 - Tulisan berputar
 - Tulisan berkedip
 - Tidak menghasilkan apa-apa
14. Tag ini digunakan untuk memberikan judul pada window browser tentang topik dokumen web yang ditampilkan. Tag ini berada di dalam tag head. Tag ini adalah...
- `<head>`
 - `<caption>`
 - `<table>`
 - `<title>`
 - `<form>`
15. Untuk menjalankan kode html sederhana anda dapat menggunakan....
- Powerpoint
 - Notepad

- c. prontpage
 - d. word
 - e. PHP
16. Proses memindahkan file situs web yang anda buat ke web hosting disebut....
- a. download
 - b. bottonload
 - c. topload
 - d. upload
 - e. middleload
17. Dasar-dasar menguasai html adalah....
- a. mengenal tag-tag dasar
 - b. membuat kode html
 - c. link ke internet
 - d. menyisipkan gambar
 - e. memasukan rumus
18. Mengirim pesan atau berita kesebuah situs, forum diskusi atau milis dinamakan....
- a. copy
 - b. posting
 - c. block
 - d. banned
 - e. banner
19. Disebut juga log on sebagai proses untuk masuk ke dalam system sebuah computer, jaringan, atau layanan online yang meminta pengisian nama dan password pengguna agar computer dapat mengenali dan mengakui keabsahannya dalam mengakses....
- a. URL
 - b. IP Address
 - c. Account
 - d. Backup
 - e. Login
20. Salah satu standar koneksi nirkabel jarak dekat yang dapat menghubungkan piranti elektronik seperti ponsel, PDA dan PC
- a. Radar
 - b. gatekeeper
 - c. CDMA
 - d. Bluetooth
 - e. GSM
21. Perusahaan yang menyediakan jasa layanan koneksi ke internet
- a. intranet
 - b. ISP
 - c. HTTP
 - d. www
 - e. mlRC
22. Titik yang dapat menerima input data ke dalam network atau menghasilkan output informasi atau kedua-duanya
- a. jaringan
 - b. node
 - c. kabel
 - d. infrared
 - e. link
23. Sambungan atau koneksi dari sebuah sumber ke sumber yang lain. Misalnya dari sebuah sistem networking atau internet
- a. jaringan
 - b. node
 - c. kabel
 - d. infrared
 - e. link

24. Berikut ini adalah beberapa topologi atau bentuk jaringan

- a. Star network dan mesh network
- b. Ring network dan neck network
- c. Oval network dan star network
- d. Bus network dan motor network
- e. Tree network dan dahan network

25. Bila salah satu node rusak maka akan mengganggu node yang ada di bawahnya, merupakan kekurangan dari jaringan....

- a. Star network
- b. Ring network
- c. Motor network
- d. Tree network
- e. Bus network

26. Internet dalam skala/cakupan yang lebih kecil disebut

- a. Homepage
- b. Internet explorer
- c. Intranet
- d. Gateway
- e. ISP

27. Sebuah komputer di internet atau di jaringan lainnya yang menyimpan file dan membuat file tersebut tersedia untuk diambil jika dibutuhkan

- a. Link
- b. Server
- c. Browser
- d. HTTP
- e. Website

28. Jenis Email yang dapat dibaca secara offline adalah....

- a. Email forwarding

b. Web based-mail

- c. POP3 mail
- d. Yahoo
- e. mailcity






29. Alat penghubung antara LAN dan internet yang merutekan transmisi antara keduanya

- a. Router
- b. Link
- c. Bridge
- d. Modem
- e. Server

30. Sebuah sistem komunikasi global yang menghubungkan komputer-komputer dan jaringan-jaringan komputer di seluruh dunia.

- a. Intranet
- b. Internet
- c. Website
- d. Homepage
- e. Server

31. Dari gambar dibawah ini manakah yang merupakan Bentuk jaringannya seperti bintang dengan satu sentral pusat


- a. 
- b. 
- c. 
- d. 
- e. 

32. Apa yang dimaksud dengan sharing dalam istilah jaringan..

- a. mengcopy data dari internet
- b. Pertukaran data dalam jaringan

- c. Membuat folder
 - d. Pertukaran data dalam browser
 - e. Pencarian data dalam search engine
33. Apa yang dimaksud dengan fasilitas *conference* saat kita melakukan aktifitas chatting dengan yahoo messenger?
- a. Kita dapat mendengar suara teman chatting
 - b. Kita dapat mengobrol sepuasnya
 - c. Kita dapat chatting sepuas hati
 - d. Kita dapat chatting dengan group
34. Suatu fasilitas yang dijalankan melalui browser untuk mencari informasi yang kita inginkan, disebut..
- a. Server
 - b. Search engine
 - c. Google
 - d. Download
 - e. Upload
35. Apa yang dimaksud dengan *sign in as invisible* saat kita melakukan aktifitas chatting dengan yahoo messenger?
- a. Masuk dengan password
 - b. Sign dengan password
 - c. Id aktif tanpa terlihat
 - d. Kita dapat mengobrol sepuasnya
 - e. Chatting secara otomatis
36. Apa kepanjangan dari URL?
- a. Uniq Resource Locator
 - b. Uniq Resource location
 - c. Uniform Resource Locator
 - d. Uniform Resource Location
 - e. Uniform Located
37. Hal yang paling penting yang dibutuhkan dalam koneksi internet, adalah?
- a. Komputer, External modem
 - b. Printer, monitor, telepon
 - c. External modem, internal modem, telepon
 - d. Komputer, Modem, Jaringan telepon
 - e. Komputer, printer, modem
38. Apa yang dimaksud dengan nir kabel?
- a. Jaringan listrik
 - b. Jaringan tanpa kabel
 - c. Jaringan kabel yang rumit
 - d. Jaringan komputer
 - e. Jaringan telepon
39. Apa artinya *refresh*?
- a. Kembali ke halaman sebelumnya
 - b. Menuju ke halaman berikutnya
 - c. Membatalkan browsing
 - d. Kembali ke tampilan pertama
 - e. Mengulang kembali browsing yang gagal
40. Komputer-komputer yang terhubung ke dalam jaringan (network) biasanya disebut?
- a. Lab komputer
 - b. Warnet
 - c. Workstation
 - d. Router
 - e. Link
41. Berikut ini adalah contoh-contoh web browser, kecuali...
- a. Netscape communicator
 - b. Netscape navigator
 - c. Internet explorer

- d. Opera
- e. FireFox

42. Icon berikut  menunjukkan?
- a. Kembali ke halaman sebelumnya
 - b. Menuju ke halaman berikutnya
 - c. Membatalkan browsing
 - d. Kembali ke tampilan pertama
 - e. Mengulang kembali browsing yang gagal dengan alamat yang sama.

43. Apa yang dihasilkan dari tag berikut

```
<TABLE BORDER=1>
<TR>
<TD>a</TD>
<TD>b</TD>
</TR>
```

- a. 1 baris 1 kolom
- b. 2 baris 1 kolom
- c. 2 kolom 1 baris
- d. 2 kolom 2 baris
- e. Baris a dan b

44. Menyatakan jarak antara sel satu dan lainnya disebut....

- a. cellpadding
- b. cellspacing
- c. width
- d. tag
- e. TR

45. Menyatakan jarak antara isi sel dengan batas dari sel tersebut disebut....

- a. cellpadding
- b. cellspacing
- c. width
- d. tag
- e. TR

II. PETUNJUK: UNTUK SOAL NOMOR

46 SAMPAI 50 PILIHLAH:

A. JIKA 1 DAN 2 BENAR!

B. JIKA 1 DAN 3 BENAR!

C. JIKA 2 DAN 3 BENAR!

D. JIKA 1,2 DAN 3 SEMUA BENAR!

46. Berikut adalah bentuk-bentuk sederhana dari *external network*

1. Star Network
2. Circle Network
3. Bus Network

47. Komputer adalah suatu alat elektronik yang mampu melakukan beberapa tugas sebagai berikut

1. Menerima input
2. Menyimpan perintah-perintah dan hasil dari pengolahan
3. Menyediakan output dalam bentuk

48. Berikut adalah beberapa pengertian tentang analisis sistem

1. Seseorang yang mempunyai kemampuan untuk menganalisa
2. Seseorang yang mempunyai kemampuan untuk merencanakan sebuah system
3. Seseorang yang mau melakukan pekerjaan apapun

49. Berikut ini adalah beberapa ekstensi yang menunjukkan sebuah file gambar

1. swf,gif,jpeg
2. gif,bmp,jpg
3. bmp,ppt,doc

50. Perangkat keras yang dibutuhkan untuk

membangun sebuah jaringan komputer

yaitu:

1. Komputer
2. Card Network
3. Hub

**** Good Luck 😊 & GBU****

informasi

- f. Seseorang yang mempunyai kemampuan untuk merencanakan sebuah system
- g. seseorang yang mau melakukan pekerjaan apapun

Perangkat keras yang dibutuhkan untuk membangun sebuah jaringan komputer yaitu:

- 4. Komputer
- 5. Card Network
- 6. Hub

**** Good Luck ☺ & GBU****